















Welche Einheit passt?



Streichen Sie die Einheiten durch, die unsinnig sind

Büroklammer 	cm	cm ²	cm ³	mg	s
Trinkglas 	cm	cm ²	cm ³	g	kJ
Geschenkpapier 	km	cm ²	l	cm	g
Buch 	dm	dm ²	dm ³	kg	min
Esel 	m	m ²	m ³	kg	min
Schreibtisch 	m	m ²	m ³	kg	kJ
Mehl 	cm	cm ³	l	kJ	kg
Milch 	km	cm ²	l	t	kJ

Praline 	g	mg	t	cm ²	l
Tortenspitze 	km	cm ²	l	cm	g
Brötchen 	m	m ²	kJ	g	kg
Spülmittel 	cm	cm ²	l	t	h
Butter 	cm	cm ²	l	t	h
Wienerle 	m	m ²	kJ	g	kg
Briefmarke 	cm	cm ²	cm ³	kJ	s
Herstellen von Apfelkuchen 	kJ	cm ²	cm ³	g	min
Schulweg 	l	cm ²	km	t	h